

3. Hudobná abeceda

Hudobnú abecedu tvoria tóny **c, d, e, f, g, a, h.**

Spoj mená nôť do hudobnej abecedy.

d
c

e

f

g

a

h




Doplň hudobnú abecedu:

c d _____

6. Noty

Doplň názvy nôť.



c¹ ___ ___ ___ ___ ___ ___ ___

Spoj čiarou noty a ich názvy.



c¹ d¹ e¹ f¹ g¹ a¹ h¹ c²

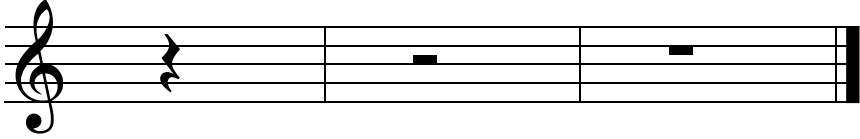
Doplň názvy nôť.



c¹ ___ ___ ___ ___ ___ ___ ___

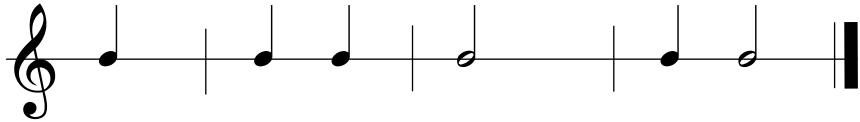
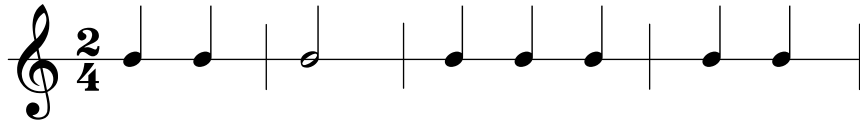
11. Pomlčky

Doplň názvy pomlčiek.

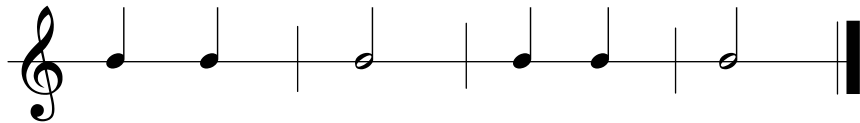
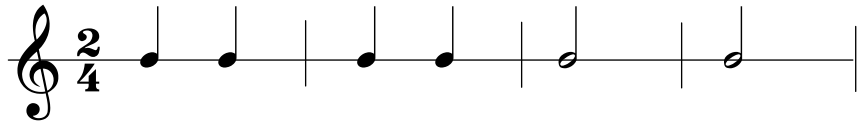


12. Takt dvojštvrtový

Zakrúžkuj takty, ktoré sú správne. Ostatné vyškrtni.



Vytlieskaj podľa nôt.




22. Označenie dynamiky

Piano znamená _____ , označuje sa _____ .

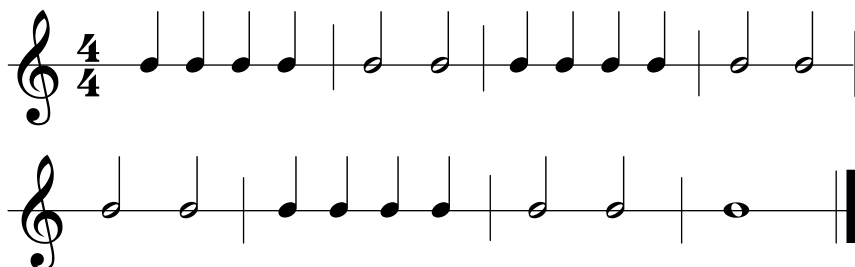
Mezzoforte znamená _____ ,
označuje sa _____ .

Forte znamená _____ , označuje sa _____ .

23. Takt štvorštvrtňový

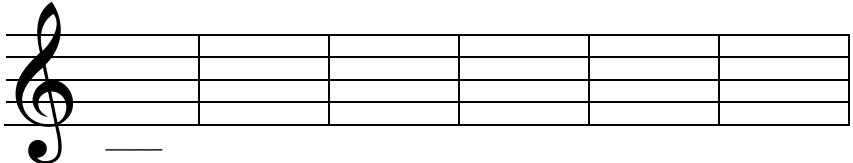


Vytlieskaj podľa nôt.

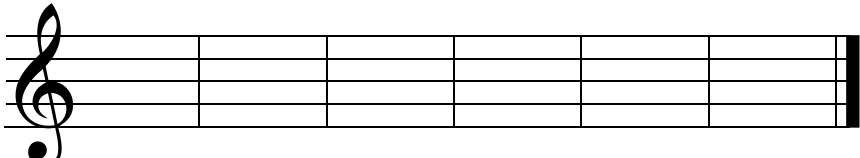


24. Noty

Napíš noty. Pozor na správny zápis nožičiek.




c¹ d¹ e¹ f¹ g¹ a¹



h¹ c² d² e² f² g²




Zakrúžkuj noty, ktoré sú správne.



d² g¹ e² f¹ d² g²
polová celá štvrtová celá štvrtová celá

27. Noty

Doplň názvy nôt.





28. Hudobné pojmy

crescendo – zosilňovať



decrescendo – zoslabovať

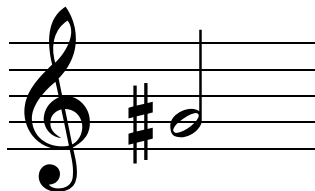


ritardando – spomaľovať

38. Noty s krížikmi

Krížik notu zvyšuje
o pol tónu.

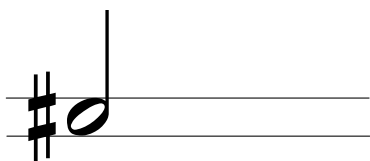
K názvu noty
sa pridáva koncovka



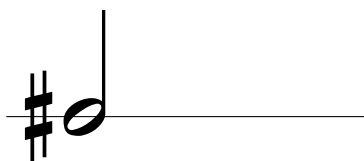
-is

gis¹

Opíš krížik v medzere:




Opíš krížik na čiare:



cis¹ dis¹ eis¹ fis¹ gis¹ ais¹ his¹ cis²

Doplň názvy nôt.

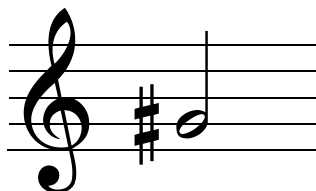



___is¹ ___is¹ ___is¹ ___is¹




___is¹ ___is¹ ___is¹ ___is²

Krížik sa vždy píše pred notu (nikdy nie za ňu).



39. Stupnica G dur

Zakrúžkuj v stupnici G dur tón fis². Vymenuj tóny stupnice G dur.



40. Hudobné pojmy

legato – viazane

staccato – krátko

46. Stupnica F dur

Zakrúžkuj v stupnici F dur tón hesl. Vymenuj tóny stupnice F dur.



47. Hudobné pojmy

moderato – mierne

allegro – rýchlo



